

かずのたしざん③


なまえ _____




たしざん くだもののしきをつくろう！

ポイント くだものにすじをかこう

①



②



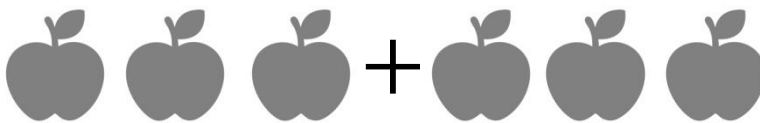
③




④



⑤



⑥



⑦



こたえ① $3+2+2=7$ ② $3+2=5$ ③ $2+1=3$
④ $4+4=8$ ⑤ $3+3=6$ ⑥ $2+2=4$ ⑦ $8+1=9$