

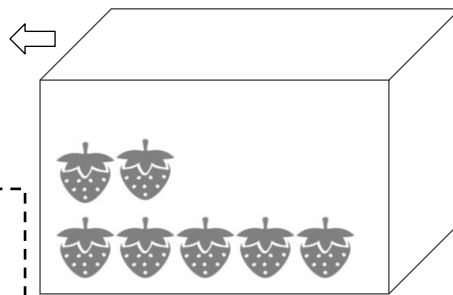


10コはいるケースがあります。
いくついれたらケースがいっぱいになりますか？
あまりは、いくつになりますか？

①




イチゴを7コしいれました。



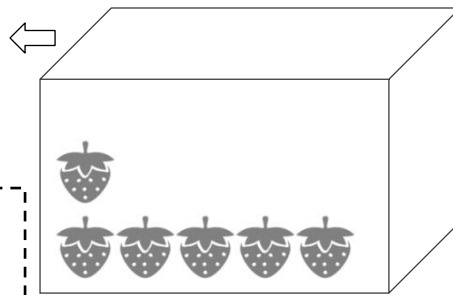
いれるかず
_____コ
あまり
_____コ

10コはいるケース
にイチゴが4コはいつて
います。

②



イチゴを6コしいれました。



いれるかず
_____コ
あまり
_____コ

10コはいるケース
にイチゴが8コはいつて
います。

③

- a. $6 + 5$ は10と _____ で、11になります。
- b. $8 + 6$ は10と 4 で、_____ になります。
- c. $7 + 7$ は10と _____ で、_____ になります。
- d. $9 + 3$ は10と _____ で、_____ になります。