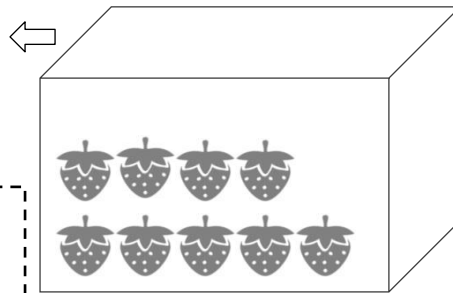





10コはいるケースがあります。
いくついれたらケースがいっぱいになりますか？
あまりは、いくつになりますか？

①

イチゴを9コしいれました。

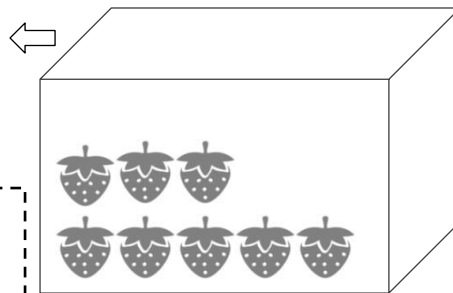


10コはいるケース
にイチゴが7コはいつて
います。

いれるかず
_____コ
あまり
_____コ

②

イチゴを8コしいれました。



10コはいるケース
にイチゴが5コはいつて
います。

いれるかず
_____コ
あまり
_____コ

③

- a. $8 + 8$ は10と _____ で、16になります。
- b. $9 + 9$ は10と 8 で、_____ になります。
- c. $7 + 5$ は10と _____ で、_____ になります。
- d. $8 + 7$ は10と _____ で、_____ になります。